



Adı Soyadı :

Numarası :

Konu: Genel Değerlendirme 2

1 4 birlik + 1 onluktan oluşan sayı kaçtır?

- A) 41 B) 10 C) 14

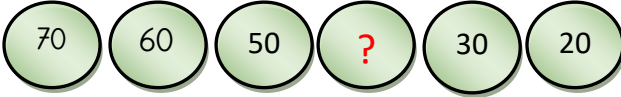
2



Yukarıdaki meyveleri ok yönünde takip edersek elma baştan kaçınıcı sıradadır?

- A) Altıncı
B) Dördüncü
C) Beşinci

3



Yukarıdaki soru işareti ile gösterilen yere hangi sayı gelmelidir?

- A) 10 B) 80 C) 40

4

$8 + 4$	$9 + 6$
$10 + 5$	$7 + 8$

Yukarıdaki tablodaki toplama işlemlerinden kaç tanesinin toplamı 15'dir?

- A) iki B) üç C) dört

$$9 - \square = 7$$

5

Yukarıdaki çıkarma işleminde boş bırakılan kutuya hangi sayı gelmelidir?

- A) Bir
B) Dört
C) İki

6







Mehmet'in 18 fıncığı var. Önce 5 tanesini sonra 8 tanesini yedi. Mehmet'in kaç cevizi kaldı?


- A) 5
B) 7
C) 6



7

Yukarıdaki örüntüde boş bırakılan yerlere hangi semboller gelmelidir?

- A)  
B)  
C)  



8 Yukarıdaki yarım limonlar birleştirildiğinde kaç bütün limon olur?

- A) 5 B) 4 C) 3

9 Aşağıdaki geometrik şekillerden hangisinin kenar sayısı diğerlerinden azdır?



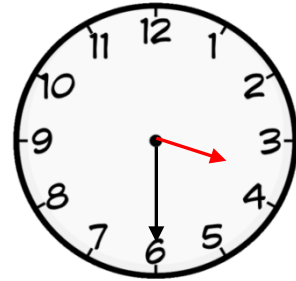

10 Silginin boyunu ölçmek için standart olmayan uzunluk ölçülerinden hangisini kullanırsınız?

- A) Karış
B) Parmak
C) Kulaç

11 Halının uzun kenarı 19 ayak, kısa kenarı 10 ayaktır. Buna göre halının uzun kenarı, kısa kenarından kaç ayak uzundur?

- A) 10 B) 8 C) 9

12 Kutulardaki paralardan hangisi daha fazladır?



13 Yukarıdaki saatin okunuşu hangisidir?

- A) Saat Üç
B) Saat Dört Buçuk
C) Saat Üç Buçuk

14 Aşağıdaki nesnelerden hangisi küreye benzer?



Başarılar

